

Spezifische Fragen Binnen

73. Für welche Sportboote ist der Sportbootführerschein-Binnen vorgeschrieben?

- a. Für Sportboote von mehr als 11,03 kW (15 PS) Nutzleistung, auf dem Rhein von mehr als 3,68 kW (5 PS) Nutzleistung, und weniger als 15 m Länge.
- b. Für Sportboote von weniger als 11,03 kW (15 PS) Nutzleistung und mehr als 15 m Länge.
- c. Für Sportboote von mehr als 11,03 kW (15 PS) Nutzleistung und mehr als 15 m Länge.
- d. Für Sportboote von weniger als 11,03 kW (15 PS) Nutzleistung und weniger als 15 m Länge.

74. Auf welchen Gewässern gilt der Sportbootführerschein-Binnen?

- a. Auf allen Landesgewässern.
- b. Auf den Binnenschiffahrtsstraßen und allen Landesgewässern.
- c. Auf den Binnenschiffahrtsstraßen.
- d. Auf allen Wasserstraßen im Binnenbereich.

75. Aus welchen Gründen muss der Sportbootführerschein-Binnen entzogen werden?

- a. Bei zweifelhafter Tauglichkeit wegen Alkoholmissbrauch.
- b. Bei fehlender Tauglichkeit oder fehlender Zuverlässigkeit.
- c. Bei zweifelhafter Zuverlässigkeit aus Altersgründen.
- d. Bei fehlender Zuverlässigkeit wegen einer Ordnungswidrigkeit.

76. Was beinhaltet die allgemeine Sorgfaltspflicht?

- a. Gefährdung von Menschenleben, Beschädigungen an Fahrzeugen, Anlagen oder Ufern und Beeinträchtigung der Umwelt.
- b. Es ist alles zu tun, was zur Vermeidung der Gefährdung von Menschenleben, Behinderung der Schifffahrt und Beeinträchtigung der Umwelt nötig ist.
- c. Vermeidung der Gefährdung von Menschenleben, von Beschädigungen an Fahrzeugen, Anlagen oder Ufern, Behinderung der Schifffahrt und Beeinträchtigung der Umwelt.
- d. Es ist alles zu tun, was zur Vermeidung von Beschädigungen an Fahrzeugen, Anlagen oder Ufern, Behinderung der Schifffahrt und Beeinträchtigung der Umwelt nötig ist.

77. Unter welchen Umständen darf von den geltenden Bestimmungen über das Verhalten im Verkehr auf den Binnenschiffahrtsstraßen abgewichen werden?

- a. Bei unmittelbar bevorstehendem Überholvorgang.
- b. Bei unmittelbar drohender Gefahr für sich oder andere.
- c. Bei unmittelbar bevorstehender Begegnung.
- d. Bei mittelbar drohender Gefahr für sich oder andere.

78. Welche Anforderungen neben der körperlichen und geistigen Tauglichkeit und fachlichen Eignung muss der Führer eines Sportbootes auf Binnenschiffahrtsstraßen, mit Ausnahme des Rheins, erfüllen, wenn die größte Nutzleistung der Antriebsmaschine 11,03 kW oder weniger beträgt?

- a. Nachweis der Zuverlässigkeit.
- b. Mindestalter 14 Jahre.
- c. Mindestalter 16 Jahre.
- d. Besitz eines Sportbootführerscheins-Binnen oder eines gleichgestellten Befähigungszeugnisses.

79. Welche Anforderungen neben der körperlichen und geistigen Tauglichkeit und fachlichen Eignung muss der Führer eines Sportbootes auf dem Rhein erfüllen, wenn die Nutzleistung der Antriebsmaschine mehr als 3,68 kW beträgt?

- a. Nachweis der Zuverlässigkeit.
- b. Besitz eines Sportbootführerscheins-Binnen oder eines gleichgestellten Befähigungszeugnisses.
- c. Mindestens 14 Jahre.
- d. Mindestalter 16 Jahre.

80. Welche Anforderungen muss der Rudergänger eines Sportbootes mit Antriebsmaschine grundsätzlich auf den Binnenschiffahrtsstraßen erfüllen?

- a. Er muss mindestens 16 Jahre alt und körperlich, geistig und fachlich geeignet sein.
- b. Er muss mindestens 18 Jahre alt und körperlich, geistig und fachlich geeignet sein.
- c. Er muss mindestens 16 Jahre alt und Inhaber des Sportbootführerscheins - Binnen sein.
- d. Er muss mindestens 14 Jahre alt und körperlich, geistig und fachlich geeignet sein.

81. Wo erhält man Auskünfte über Verkehrsbeschränkungen und aktuelle Informationen über Binnenschiffahrtsstraßen?

- a. Bei einem Wasserwirtschaftsamt und bei der Wasserschutzpolizei.
- b. Bei der Wasser- und Schifffahrtsverwaltung, im Internet unter www.elwis.de und bei der Wasserschutzpolizei.
- c. In der Binnenschiffahrtsstraßen-Ordnung Teil II.
- d. In der Binnenschiffsuntersuchungsordnung.

82. Wozu muss der Rudergänger eines Sportbootes zur sicheren Steuerung in der Lage sein?

- a. Alle Informationen und Weisungen zu empfangen und zu geben, alle Schallzeichen wahrzunehmen und nach allen Seiten genügend freie Sicht zu haben.
- b. Alle Informationen und Weisungen zu empfangen und zu geben.
- c. Alle Schallzeichen wahrnehmen zu können und nach allen Seiten genügend freie Sicht zu haben.
- d. Alle Informationen und Weisungen zu empfangen und zu geben und nach allen Seiten genügend freie Sicht zu haben.

83. Bis zu welcher Schiffslänge berechtigt der Sportbootführerschein - Binnen zum Führen eines Sportbootes auf Binnenschiffahrtsstraßen?

- a. Bis zu einer Länge von weniger als 15 m (mit Ruder und Bugspriet).
- b. Bis zu einer Länge von weniger als 15 m (ohne Ruder und Bugspriet).
- c. Bis zu einer Länge von weniger als 25 m (mit Ruder und Bugspriet).
- d. Bis zu einer Länge von weniger als 25 m (ohne Ruder und Bugspriet).

84. Wo findet man die allgemeinen Verkehrsregeln für die Binnenschiffahrtsstraßen und den Rhein?

- a. Moselschiffahrtspolizeiverordnung, Donauschiffahrtspolizeiverordnung.
- b. Wassermotorräderverordnung, Wasserskiverordnung.
- c. Binnenschiffsuntersuchungsordnung, Rheinschiffahrtspolizeiverordnung.
- d. Binnenschiffahrtsstraßen-Ordnung, Rheinschiffahrtspolizeiverordnung.

85. Wo findet man die allgemeinen Verkehrsregeln für die Mosel und die Donau?

- a. Donauschiffahrtspolizeiverordnung, Binnenschiffahrtsstraßen-Ordnung.
- b. Moselschiffahrtspolizeiverordnung, Donauschiffahrtspolizeiverordnung.
- c. Moselschiffahrtspolizeiverordnung, Binnenschiffsuntersuchungsordnung.
- d. Wassermotorräderverordnung, Wasserskiverordnung.

86. Wo findet man Regeln für den Verkehr von Wassermotorrädern und für das Wasserskilaufen?

- a. Moselschiffahrtspolizeiverordnung, Donauschiffahrtspolizeiverordnung.
- b. Binnenschiffahrtsstraßen-Ordnung, Rheinschiffahrtspolizeiverordnung.
- c. Moselschiffahrtspolizeiverordnung, Binnenschiffsuntersuchungsordnung.
- d. Wassermotorräderverordnung, Wasserskiverordnung.

87. Welche Maßnahmen sind zu treffen, wenn das Fahrzeug innerhalb des Fahrwassers bzw. der Fahrrinne Grundberührung hat?

- a. Die Wasser- und Schifffahrtsverwaltung oder die Wasserschutzpolizei ist mit genauer Angabe der Hindernisstelle zu benachrichtigen.
- b. Die Wasserschutzpolizei oder die Wasser- und Schifffahrtsverwaltung ist mit genauer Angabe der Schiffsdaten zu informieren.
- c. Das Fahrzeug verbleibt vor Ort bis die Wasserschutzpolizei eintrifft.
- d. Ein Baggerunternehmen ist zu verständigen, damit das Hindernis beseitigt wird.

88. Was versteht man unter "Fahrwasser"?

- a. Den Teil der Wasserstraße, in dem für den durchgehenden Schiffsverkehr bestimmte Breiten und Tiefen vorgehalten bzw. angestrebt werden.
- b. Den Teil der Wasserstraße, der den örtlichen Umständen nach vom durchgehenden Schiffsverkehr benutzt wird.
- c. Es ist der Teil der Wasserstraße, der durch die Ufer begrenzt ist.
- d. Es ist der Teil der Wasserstraße, deren Tiefe bei 2,50 m und mehr beginnt.

89. Was versteht man unter "Fahrrinne"?

- a. Es ist der Teil der Wasserstraße, deren Breite mindestens 150 m und deren Tiefe mindestens 3,00 m beträgt.
- b. Es ist der Teil der Wasserstraße, deren Breite mindestens 88 m und deren Tiefe mindestens 2,50 m beträgt.
- c. **Es ist der Teil der Wasserstraße, in dem für den durchgehenden Schiffsverkehr bestimmte Breiten und Tiefen vorgehalten bzw. angestrebt werden.**
- d. Den Teil der Wasserstraße, der den örtlichen Umständen nach vom durchgehenden Schiffsverkehr benutzt wird.

90. Wie wird die Schifffahrt vom Erreichen bestimmter Wasserstände und Hochwassermarken informiert?

- a. Durch Aushang bei Hafenämbtern und Schleusen.
- b. Durch Aushang bei Wasserschutzpolizei-Stationen.
- c. **Durch Nautischen Informationsfunk, Information im Rundfunk, im Fernsehen und im Internet.**
- d. Durch Bekanntgaben der Hochwasserschutzzentrale.

91. Wo kann der Sportbootfahrer vor Ort das Erreichen bestimmter Wasserstände und Hochwassermarken feststellen?

- a. An den Aushängen bei Hafenämbtern und Schleusen.
- b. **An den Pegeln und ausgewiesenen Hochwassermarken.**
- c. An den Aushängen bei Wasserschutzpolizei-Stationen.
- d. An den Pegeln und den Einsenkungsmarken der Fahrzeuge.

92. Welche Auswirkungen kann das Erreichen der Hochwassermarke I für die Sportschifffahrt haben?

- a. Einstellung der Schifffahrt.
- b. **Geschwindigkeitsbeschränkung und Fahrverbot für Fahrzeuge ohne Sprechfunk.**
- c. Verbot der Schifffahrt bei Nacht und unsichtigem Wetter.
- d. Überholverbot und Fahrverbot für Fahrzeuge ohne Sprechfunk.

93. Welche Auswirkungen hat das Erreichen der Hochwassermarke II für die Sportschifffahrt?

- a. **Einstellung der Schifffahrt.**
- b. Geschwindigkeitsbeschränkung und Fahrverbot für Fahrzeuge ohne Sprechfunk.
- c. Verbot der Schifffahrt bei Nacht und unsichtigem Wetter.
- d. Überholverbot und Fahrverbot für Fahrzeuge ohne Sprechfunk.

94. In welche Richtung werden bei Flüssen die Uferseiten als rechtes bzw. linkes Ufer bezeichnet?

- a. Bei der Bergfahrt liegt die rechte Uferseite rechts.
- b. Bei der Talfahrt liegt die rechte Uferseite links.
- c. Von der Mündung bis zur Quelle.
- d. **Von der Quelle bis zur Mündung.**

95. Was bedeutet "zu Berg" oder "Bergfahrt" auf Flüssen?

- a. Die Fahrt mit der Strömung.
- b. Die Fahrt in Richtung Mündung.
- c. **Die Fahrt in Richtung Quelle.**
- d. Die Fahrt über Grund.

96. Was bedeutet "zu Berg" oder "Bergfahrt" auf Kanälen?

- a. Die Fahrt, die in Teil I der Binnenschifffahrtsstraßen-Ordnung als Fahrt "zu Berg" oder "Bergfahrt" festgelegt ist.
- b. **Die Fahrt, die in Teil II der Binnenschifffahrtsstraßen-Ordnung als Fahrt "zu Berg" oder "Bergfahrt" festgelegt ist.**
- c. Die Fahrt in Richtung Quelle.
- d. Die Fahrt gegen die Strömung.

97. Welche Zeichen begrenzen die Fahrrinne zum rechten Ufer?

- a. Rote Spierentonnen oder Schwimmstangen.
- b. **Rote Stumpftonnen oder Schwimmstangen.**
- c. Grüne Spitztonnen oder Schwimmstangen.
- d. Grüne Spierentonnen oder Schwimmstangen.

98. Welche Zeichen begrenzen die Fahrerin zum linken Ufer?

- a. Rote Stumpftonnen oder Schwimmstangen.
- b. Rote Spierentonnen oder Schwimmstangen.
- c. **Grüne Spitztonnen oder Schwimmstangen.**
- d. Grüne Spierentonnen oder Schwimmstangen.

99. Welche Fahrinnenseite hat ein Bergfahrer an seiner Steuerbordseite und wie ist diese gekennzeichnet?

- a. Die rechte Fahrinnenseite, gekennzeichnet durch grüne Spitztonnen oder Schwimmstangen.
- b. Die rechte Fahrinnenseite, gekennzeichnet durch rote Stumpftonnen oder Schwimmstangen.
- c. **Die linke Fahrinnenseite, gekennzeichnet durch grüne Spitztonnen oder Schwimmstangen.**
- d. Die linke Fahrinnenseite, gekennzeichnet durch rote Stumpftonnen oder Schwimmstangen.

100. Was bedeutet eine rot-grün gestreifte Tonne oder Schwimmstange und was ist zu beachten?

- a. Fahrinnenspaltung. Vorbeifahrt an beiden Seiten möglich.
- b. Fahrinnenspaltung. Vorbeifahrt nur an Steuerbord möglich.
- c. **Fahrinnenspaltung. In Fahrtrichtung links halten.**
- d. Fahrinnenspaltung. In Fahrtrichtung rechts halten.

101. Mit welchen Zeichen werden Hindernisse wie zum Beispiel Buhnen und Kribben an der rechten Seite der Wasserstraße bezeichnet?

- a. **Stangen mit Topnzeichen: roter Kegel, Spitze nach unten, oder rot-weiß gestreifte Schwimmstange mit rotem Zylinder.**
- b. Stangen mit Topnzeichen: grüner Kegel, Spitze nach oben, oder grün-weiß gestreifte Schwimmstange mit grünem Kegel.
- c. Stangen mit Topnzeichen: roter Kegel, Spitze nach oben, oder rot-weiß gestreifte Schwimmstange mit rotem Zylinder.
- d. Stangen mit Topnzeichen: grüner Kegel, Spitze nach unten, oder grün-weiß gestreifte Schwimmstange mit grünem Kegel.

102. Was kennzeichnet eine grün-weiß gestreifte Schwimmstange mit grünem Kegel, Spitze nach oben, oder eine grüne Tonne mit grün-weiß gestreiftem Aufsatz mit grünem Kegel, Spitze nach oben?

- a. Hindernis an der rechten Seite der Wasserstraße.
- b. **Hindernis an der linken Seite der Wasserstraße.**
- c. Fahrinnenrand an der linken Seite der Wasserstraße.
- d. Fahrinnenrand an der rechten Seite der Wasserstraße.

103. Was ist in Kanälen verboten?

- a. Wenden.
- b. Überholen.
- c. Begegnen.
- d. **Ankern.**

104. Was bedeuten auf einem stillliegenden Fahrzeug zwei weiße Lichter übereinander?

- a. **Ein Ankerlieger, dessen Anker die Schifffahrt gefährden kann.**
- b. Ein Ankerlieger, der zwei Anker ausgelegt hat.
- c. Ein stillliegender Schubverband.
- d. Ein Fahrzeug über 135 m.

105. Welches Licht setzt ein stillliegendes Fahrzeug?

- a. Die Seitenlichter und ein sichtbares weißes Rundumlicht.
- b. Ein weißes Topplicht und ein weißes Hecklicht.
- c. **Ein von allen Seiten sichtbares weißes Rundumlicht auf der Fahrwasserseite.**
- d. Ein von allen Seiten sichtbares weißes Blinklicht auf der Fahrwasserseite.

106. Wie sind Anker am Tage bezeichnet, die die Schifffahrt behindern können?

- a. Mit einem weißen Döpper.
- b. Mit einem grünen Döpper.
- c. **Mit einem gelben Döpper.**
- d. Mit einem roten Döpper.



107. Was bedeutet dieses Tafelzeichen?

- a. Liegestelle für Fahrzeuge mit explosiven Stoffen, für Kleinfahrzeuge verboten.
- b. Liegestelle für Fahrzeuge mit brennbaren Stoffen, für Kleinfahrzeuge verboten.
- c. Liegestelle für Fahrzeuge mit gesundheitsgefährdeten Stoffen, für Kleinfahrzeuge verboten.
- d. Liegestelle für alle Fahrzeuge, für Kleinfahrzeuge verboten.

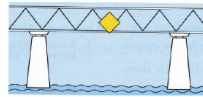


108. Was bedeuten diese Tafelzeichen?

- a. Liegestelle für Fahrzeuge ohne gefährliche Güter, nicht für Kleinfahrzeuge.
- b. Liegestelle für Fahrzeuge mit gefährlichen Gütern, nicht für Kleinfahrzeuge.
- c. Liegestelle für Fahrzeuge mit gefährlichen Gütern, auch für Kleinfahrzeuge.
- d. Liegestelle für Fahrzeuge ohne gefährliche Güter, auch für Kleinfahrzeuge.

109. Wo besteht ohne besondere Bezeichnung der Stellen bzw. Strecken ein allgemeines Liegeverbot?

- a. Vor Brücken und Hochspannungsleitungen.
- b. Vor Brücken und nach Hochspannungsleitungen.
- c. Auf Schifffahrtskanälen und Schleusenkanälen.
- d. Auf Schifffahrtskanälen und vor Schleusenkanälen.



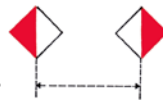
110. Welche Bedeutung hat das nachstehende Tafelzeichen?

- a. Empfohlene Durchfahrt, Durchfahrt in Gegenrichtung verboten.
- b. Empfohlene Durchfahrtsöffnung, Durchfahrt in beide Richtungen erlaubt.
- c. Die Durchfahrt ist nur durch diese Brückenöffnung und nur in eine Richtung gestattet.
- d. Die Durchfahrt ist nur durch diese Brückenöffnung und in beide Richtungen gestattet.



111. Welche Bedeutung haben die nachstehenden Tafelzeichen?

- a. Empfohlene Durchfahrt, Durchfahrt in Gegenrichtung verboten.
- b. Empfohlene Durchfahrtsöffnung, Durchfahrt in beide Richtungen erlaubt.
- c. Die Durchfahrt ist nur durch diese Brückenöffnung und in beide Richtungen gestattet.
- d. Die Durchfahrt ist nur durch diese Brückenöffnung und nur in eine Richtung gestattet.



112. Was bedeuten diese Tafelzeichen an Brücken?

- a. Empfohlene Durchfahrt nur zwischen den beiden Tafeln.
- b. Empfohlene Durchfahrt mit Gegenverkehr.
- c. Durchfahrt nur zwischen den beiden Tafeln erlaubt.
- d. Durchfahrt nur außerhalb der beiden Tafeln erlaubt.



113. Was bedeuten diese Tafelzeichen an Brücken?


- a. Empfohlene Durchfahrt nur zwischen den beiden Tafeln.
- b. Empfohlene Durchfahrt mit Gegenverkehr.
- c. Durchfahrt nur zwischen den beiden Tafeln erlaubt.
- d. Durchfahrt nur außerhalb der beiden Tafeln erlaubt.



114. Was bedeutet dieses Tafelzeichen an Brücken?

- a. Durchfahrt nur neben der Tafel erlaubt.
- b. Empfohlene Durchfahrt ohne Gegenverkehr.
- c. Empfohlene Durchfahrt nur in eine Richtung.
- d. Empfohlene Durchfahrt mit Gegenverkehr.

115. Was bedeuten diese Tafelzeichen an Brücken?



- a. Durchfahrt nur außerhalb der beiden Tafeln erlaubt.
- b. **Empfohlene Durchfahrt ohne Gegenverkehr.**
- c. Empfohlene Durchfahrt mit Gegenverkehr.
- d. Empfohlene Durchfahrt in beide Richtungen.

116. Was bedeutet dieses Tafelzeichen im Bereich eines Wehres?



- a. Gesperrte Wasserfläche, jedoch für Kleinfahrzeuge mit Antriebsmaschine befahrbar.
- b. Gesperrte Wasserfläche, jedoch für Kleinfahrzeuge ohne Antriebsmaschine befahrbar.
- c. Schutzbedürftige Anlage.
- d. **Verbot der Durchfahrt und Sperrung der Schifffahrt.**

117. Welche Bedeutung haben vor einer Schleuse ein rotes oder ein rotes und ein grünes Licht?

- a. Einfahrt verboten, Schließen der Schleuse wird vorbereitet.
- b. **Einfahrt verboten, Öffnen der Schleuse wird vorbereitet.**
- c. Ausfahrt verboten, Öffnen der Schleuse wird vorbereitet.
- d. Ausfahrt verboten, Schließen der Schleuse wird vorbereitet.

118. In welcher Reihenfolge fahren Fahrzeuge, die nicht Kleinfahrzeuge sind, und Kleinfahrzeuge, die gemeinsam geschleust werden sollen, in die Schleuse ein?

- a. **Kleinfahrzeuge fahren erst nach den Fahrzeugen, die nicht Kleinfahrzeuge sind und nach Aufforderung durch die Schleusenaufsicht in die Schleuse ein.**
- b. Kleinfahrzeuge fahren vor den Fahrzeugen, die nicht Kleinfahrzeuge sind und vor Aufforderung durch die Schleusenaufsicht in die Schleuse ein.
- c. Kleinfahrzeuge fahren vor den Fahrzeugen, die nicht Kleinfahrzeuge sind und ohne Aufforderung durch die Schleusenaufsicht in die Schleuse ein.
- d. Kleinfahrzeuge fahren nach den Fahrzeugen, die nicht Kleinfahrzeuge sind und ohne Aufforderung durch die Schleusenaufsicht in die Schleuse ein.

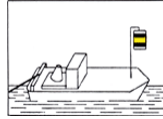
119. Mehrere Kleinfahrzeuge sollen gemeinsam vom Oberwasser in das Unterwasser geschleust werden. Worauf ist bei deren Einfahrt in die Schleuse und während des Schleusens besonders zu achten?

- a. Das erste Kleinfahrzeug muss so weit einfahren, dass es beim Leeren der Schleuse nicht auf den Drempel aufsetzen kann. Die Festmacherleinen sind so zu bedienen, dass Stöße gegen Schleusenwände, Schleusentore, andere Fahrzeuge vermieden werden und ein sicheres Fieren der Leinen möglich ist.
- b. Das erste Kleinfahrzeug muss so weit einfahren, dass es beim Füllen der Schleuse nicht auf den Drempel aufsetzen kann. Die Festmacherleinen sind so zu bedienen, dass Stöße gegen Schleusenwände, Schleusentore, andere Fahrzeuge vermieden werden und ein sicheres Fieren der Leinen möglich ist.
- c. Das letzte Kleinfahrzeug muss so weit einfahren, dass es beim Füllen der Schleuse nicht auf den Drempel aufsetzen kann. Die Festmacherleinen sind so zu bedienen, dass Stöße gegen Schleusenwände, Schleusentore, andere Fahrzeuge vermieden werden und ein sicheres Fieren der Leinen möglich ist.
- d. **Das letzte Kleinfahrzeug muss so weit einfahren, dass es beim Leeren der Schleuse nicht auf den Drempel aufsetzen kann. Die Festmacherleinen sind so zu bedienen, dass Stöße gegen Schleusenwände, Schleusentore, andere Fahrzeuge vermieden werden und ein sicheres Fieren der Leinen möglich ist.**

120. Was bedeuten diese Lichter?

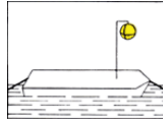


- a. Fahrzeug ohne Maschinenantrieb länger als 110 m.
- b. **Fahrzeug mit Maschinenantrieb länger als 110 m.**
- c. Schubverband kürzer als 110 m.
- d. Schubverband länger als 110 m.



121. Was bedeutet dieses Sichtzeichen?

- a. Fahrzeuge mit Vorrang an einer Schleuse.
- b. Fahrzeug eines Schleppverbandes.
- c. **Schleppfahrzeug an der Spitze eines Schleppverbandes.**
- d. Fahrzeug, das vor Anker liegt.



122. Was bedeutet dieses Sichtzeichen?

- a. Fahrzeuge mit Vorrang an einer Schleuse.
- b. **Fahrzeug eines Schleppverbandes.**
- c. Schleppfahrzeug an der Spitze eines Schleppverbandes.
- d. Fahrzeug, das vor Anker liegt.




123. Was bedeuten diese Lichter?

- a. Schubverband vor Anker liegend.
- b. Schubverband unter 110 m Länge.
- c. Schubverband in Fahrt von achtern.
- d. **Schubverband in Fahrt von vorne.**



124. Was bedeuten diese Lichter?

- a. **Nicht frei fahrende Fähre.**
- b. Frei fahrende Fähre.
- c. Schubverband von achtern.
- d. Schubverband von Steuerbordseite.

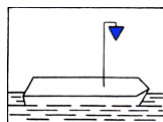


125. Was bedeuten diese Lichter?

- a. Nicht frei fahrende Fähre.
- b. **Frei fahrende Fähre.**
- c. Schubverband von achtern.
- d. Schubverband von Steuerbordseite.

126. Was bedeutet auf einem Fahrzeug ein blaues Licht?

- a. **Fahrzeug hat brennbare Stoffe geladen. Abstand beim Stillliegen 10 m.**
- b. Fahrzeug hat gesundheitsschädliche Stoffe geladen. Abstand beim Stillliegen 50 m.
- c. Fahrzeug hat explosive Stoffe geladen. Abstand beim Stillliegen 100 m.
- d. Fahrzeug der Überwachungsbehörden im Einsatz.

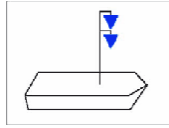


127. Was bedeutet dieses Sichtzeichen?

- a. **Fahrzeug hat brennbare Stoffe geladen, Abstand beim Stillliegen 10 m.**
- b. Fahrzeug hat gesundheitsschädliche Stoffe geladen, Abstand beim Stillliegen 50 m.
- c. Fahrzeug hat explosive Stoffe geladen. Abstand beim Stillliegen 100 m.
- d. Fahrzeug der Überwachungsbehörden im Einsatz.

128. Was bedeuten auf einem Fahrzeug zwei blaue Lichter übereinander?

- a. Fahrzeug hat brennbare Stoffe geladen, Abstand beim Stillliegen 10 m.
- b. **Fahrzeug hat gesundheitsschädliche Stoffe geladen, Abstand beim Stillliegen 50 m.**
- c. Fahrzeug hat explosive Stoffe geladen, Abstand beim Stillliegen 100 m.
- d. Fahrzeug der Überwachungsbehörden im Einsatz.

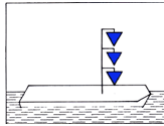


129. Was bedeutet dieses Sichtzeichen?

- a. Fahrzeug hat brennbare Stoffe geladen, Abstand beim Stillliegen 10 m.
- b. **Fahrzeug hat gesundheitsschädliche Stoffe geladen, Abstand beim Stillliegen 50 m.**
- c. Fahrzeug hat explosive Stoffe geladen, Abstand beim Stillliegen 100 m.
- d. Fahrzeug der Überwachungsbehörden im Einsatz.

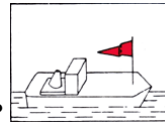
130. Was bedeuten auf einem Fahrzeug drei blaue Lichter übereinander?

- a. **Fahrzeug hat explosive Stoffe geladen, Abstand beim Stillliegen 100 m.**
- b. Fahrzeug hat gesundheitsschädliche Stoffe geladen, Abstand beim Stillliegen 50 m.
- c. Fahrzeug hat brennbare Stoffe geladen, Abstand beim Stillliegen 10 m.
- d. Fahrzeug der Überwachungsbehörden im Einsatz.



131. Was bedeutet dieses Sichtzeichen?

- a. Fahrzeug der Überwachungsbehörden im Einsatz.
- b. **Fahrzeug hat explosive Stoffe geladen, Abstand beim Stillliegen 100 m.**
- c. Fahrzeug hat gesundheitsschädliche Stoffe geladen, Abstand beim Stillliegen 50 m.
- d. Fahrzeug hat brennbare Stoffe geladen, Abstand beim Stillliegen 10 m.



132. Welches Fahrzeug führt die nachstehende Tagbezeichnung?

- a. Fahrzeug unter 20 m Länge, für mehr als 12 Fahrgäste zugelassen.
- b. Festgefahrenes Fahrzeug, das einseitig nicht passierbar ist.
- c. **Ein Fahrzeug, dem die zuständige Behörde einen Vorrang zur Durchfahrt durch Stellen an denen eine bestimmte Reihenfolge gilt eingeräumt hat.**
- d. Geschlepptes Fahrzeug eines Schleppverbandes.

133. Ein Kleinfahrzeug unter Segel fährt nachts auf einer Binnenschiffahrtsstraße und führt ein weißes Rundumlicht im Topp. Wie wird zweckmäßigerweise die weiße Handlampe, die bei Annäherung anderer Fahrzeuge gezeigt werden muss, benutzt?

- a. Die Handlampe nach oben halten.
- b. Das Wasser anleuchten.
- c. Das heranfahrende Fahrzeug anleuchten.
- d. **Die eigenen Segel anleuchten.**

134. Ein Kleinfahrzeug unter Segel fährt nachts auf einer Binnenschiffahrtsstraße und führt ein weißes Rundumlicht im Topp. Welche zusätzlichen Lichter müssen gesetzt werden, wenn der Motor angeworfen wird?

- a. Es muss kein weiteres Licht geführt werden.
- b. **Seitenlichter unmittelbar nebeneinander oder in einer einzigen Laterne.**
- c. Es muss ein weißes Funklicht geführt werden.
- d. Es muss ein zweites weißes Topplight geführt werden.

135. Welche Lichter muss ein Kleinfahrzeug unter Motor führen, wenn es ein anderes Kleinfahrzeug ohne Maschinenantrieb schleppt?

- a. **Lichter eines Kleinfahrzeugs mit Maschinenantrieb.**
- b. Zwei weiße Lichter übereinander.
- c. Weißes Rundumlicht.
- d. Lichter eines Kleinfahrzeugs mit Maschinenantrieb und ein zweites weißes Topplight.

136. Welche Lichter muss ein geschlepptes Kleinfahrzeug führen?

- a. Zwei weiße Lichter übereinander.
- b. Weißes Funkellicht.
- c. **Weißes Rundumlicht.**
- d. Lichter eines Kleinfahrzeugs mit Maschinenantrieb.

137. Wann gilt ein Sportboot auf den Binnenschiffahrtsstraßen nicht mehr als Kleinfahrzeug?

- a. Wenn es 10 m oder länger ist.
- b. Wenn es 15 m oder länger ist.
- c. Wenn es 18 m oder länger ist.
- d. **Wenn es 20 m oder länger ist.**

138. Welchen Sichtwinkel und welche Farben haben die vorgeschriebenen Lichter an Bord?

- a. Topplight: weiß 225°, Hecklicht 112,5° weiß, Seitenlichter: Backbord rot und Steuerbord grün, jeweils 135°.
- b. **Topplight: weiß 225°, Hecklicht 135° weiß, Seitenlichter: Backbord rot und Steuerbord grün, jeweils 112,5°.**
- c. Topplight: weiß 135°, Hecklicht 225° weiß, Seitenlichter: Backbord rot und Steuerbord grün, jeweils 112,5°.
- d. Topplight: weiß 112,5°, Hecklicht 225° weiß, Seitenlichter: Backbord rot und Steuerbord grün, jeweils 112,5°.

139. Welches Licht muss ein Kleinfahrzeug ohne Maschinenantrieb mindestens führen?

- a. Dreifarbenlaterne im Topp.
- b. Seitenlichter.
- c. **Ein von allen Seiten sichtbares weißes Licht.**
- d. Topp- und Hecklicht.

140. Wie muss sich ein Segelfahrzeug auf einer Binnenschiffahrtsstraße, welches sich auf Kollisionskurs mit einem Kleinfahrzeug mit Maschinenantrieb befindet, verhalten?

- a. Es wechselt den Kurs nach Steuerbord und reduziert die Geschwindigkeit.
- b. Es wechselt den Kurs nach Steuerbord und hält die Geschwindigkeit.
- c. **Es hält Kurs und Geschwindigkeit bei.**
- d. Es hält Kurs und reduziert die Geschwindigkeit.

141. Wie muss sich ein Fahrzeug mit Topplight und Seitenlichtern gegenüber einem Kleinfahrzeug mit Seitenlichtern, welches sich auf Kollisionskurs befindet, verhalten?

- a. Es wechselt den Kurs nach Steuerbord und reduziert die Geschwindigkeit.
- b. **Es hält Kurs und Geschwindigkeit bei.**
- c. Es hält Kurs und reduziert die Geschwindigkeit.
- d. Es muss ausweichen.

142. Wie muss sich ein Kleinfahrzeug mit Maschinenantrieb gegenüber einem Segelsurfer, der auf Kollisionskurs liegt, verhalten?

- a. **Es muss ausweichen.**
- b. Es hält Kurs und Geschwindigkeit bei.
- c. Es hält Kurs und reduziert die Geschwindigkeit.
- d. Es muss nicht ausweichen.

143. Wer ist ausweichpflichtig, wenn ein Segler mit Wind von Backbord einer Segelyacht mit Wind von Steuerbord und einem schwarzen Kegel auf Kollisionskurs begegnet?

- a. Beide Segelyachten, weil eines als Kleinfahrzeug mit Maschinenantrieb gilt und das andere den Wind von Backbord hat.
- b. Die Segelyacht mit Wind von Backbord, weil sie als Kleinfahrzeug unter Segel gilt.
- c. Die Segelyacht mit Wind von Steuerbord, weil sie als Kleinfahrzeug unter Segel gilt.
- d. **Die Segelyacht mit Wind von Steuerbord, weil sie als Kleinfahrzeug mit Maschinenantrieb gilt.**

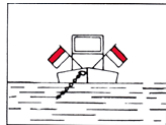
144. Wie lautet eine der drei Grundregeln der Binnenschiffahrtsstraßen-Ordnung, nach denen Kleinfahrzeuge unter Segel einander ausweichen?

- a. **Wenn sie den Wind nicht von derselben Seite haben, muss das Segelfahrzeug mit Wind von Backbord dem Segelfahrzeug mit Wind von Steuerbord ausweichen.**
- b. Wenn sie den Wind nicht von derselben Seite haben, muss das Segelfahrzeug mit Wind von Steuerbord dem Segelfahrzeug mit Wind von Backbord ausweichen.
- c. Wenn sie den Wind von derselben Seite haben, muss das leeseitige dem luvseitigen ausweichen.
- d. Wenn sie den Wind von derselben Seite haben, müssen beide Fahrzeuge ausweichen.



145. Was bedeuten diese Lichter?

- a. Festgefahrenes oder gesunkenes Fahrzeug. Vorbeifahrt an der Steuerbordseite gestattet. Sog und Wellenschlag vermeiden.
- b. Festgefahrenes oder gesunkenes Fahrzeug. Vorbeifahrt nicht gestattet.
- c. **Schwimmendes Gerät bei der Arbeit. Vorbeifahrt an jeder Seite gestattet. Sog und Wellenschlag vermeiden.**
- d. Schwimmendes Gerät bei der Arbeit. Vorbeifahrt nicht gestattet.



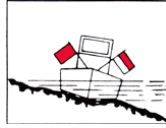
146. Was bedeuten diese Sichtzeichen?

- a. Festgefahrenes oder gesunkenes Fahrzeug. Vorbeifahrt an der Steuerbordseite gestattet. Sog und Wellenschlag vermeiden.
- b. Festgefahrenes oder gesunkenes Fahrzeug. Vorbeifahrt nicht gestattet.
- c. **Schwimmendes Gerät bei der Arbeit. Vorbeifahrt an jeder Seite gestattet. Sog und Wellenschlag vermeiden.**
- d. Schwimmendes Gerät bei der Arbeit. Vorbeifahrt nicht gestattet.



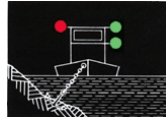
147. Was bedeuten diese Lichter?

- a. **Festgefahrenes oder gesunkenes Fahrzeug. Vorbeifahrt an der rot-weißen Seite gestattet; rote Seite gesperrt. Sog und Wellenschlag vermeiden.**
- b. Festgefahrenes oder gesunkenes Fahrzeug. Vorbeifahrt an der rot-weißen Seite gestattet; rote Seite gesperrt. Vorbeifahrt mit unverminderter Geschwindigkeit möglich.
- c. Festgefahrenes oder gesunkenes Fahrzeug. Vorbeifahrt an der roten Seite gestattet; rot-weiße Seite gesperrt. Vorbeifahrt mit unverminderter Geschwindigkeit möglich.
- d. Festgefahrenes oder gesunkenes Fahrzeug. Vorbeifahrt an der roten Seite gestattet; rot-weiße Seite gesperrt. Sog und Wellenschlag vermeiden.



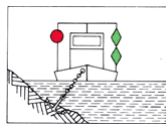
148. Was bedeuten diese Sichtzeichen?

- a. Festgefahrenes oder gesunkenes Fahrzeug. Vorbeifahrt an der roten Seite gestattet; rot-weiße Seite gesperrt. Sog und Wellenschlag vermeiden.
- b. **Festgefahrenes oder gesunkenes Fahrzeug. Vorbeifahrt an der rot-weißen Seite gestattet; rote Seite gesperrt. Sog und Wellenschlag vermeiden.**
- c. Festgefahrenes oder gesunkenes Fahrzeug. Vorbeifahrt an der rot-weißen Seite gestattet; rote Seite gesperrt. Vorbeifahrt mit unverminderter Geschwindigkeit möglich.
- d. Festgefahrenes oder gesunkenes Fahrzeug. Vorbeifahrt an der roten Seite gestattet; rot-weiße Seite gesperrt. Vorbeifahrt mit unverminderter Geschwindigkeit möglich.



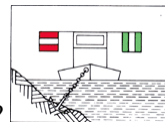
149. Was bedeuten diese Lichter?

- a. Schwimmendes Gerät bei der Arbeit. Vorbeifahrt an der grünen Seite gestattet. Vorbeifahrt an der roten Seite mit unverminderter Geschwindigkeit möglich.
- b. Schwimmendes Gerät bei der Arbeit. Vorbeifahrt an der roten Seite gestattet; grüne Seite gesperrt.
- c. **Schwimmendes Gerät bei der Arbeit. Vorbeifahrt an der grünen Seite gestattet; rote Seite gesperrt.**
- d. Schwimmendes Gerät bei der Arbeit. Vorbeifahrt an der grünen Seite gestattet; rote Seite gesperrt. Sog und Wellenschlag vermeiden.



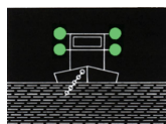
150. Was bedeuten diese Sichtzeichen?

- a. **Schwimmendes Gerät bei der Arbeit. Vorbeifahrt an der grünen Seite gestattet; rote Seite gesperrt.**
- b. Schwimmendes Gerät bei der Arbeit. Vorbeifahrt an der grünen Seite gestattet; rote Seite gesperrt. Sog und Wellenschlag vermeiden.
- c. Schwimmendes Gerät bei der Arbeit. Vorbeifahrt an der grünen Seite gestattet. Vorbeifahrt an der roten Seite mit unverminderter Geschwindigkeit möglich.
- d. Schwimmendes Gerät bei der Arbeit. Vorbeifahrt an der roten Seite gestattet; grüne Seite gesperrt.



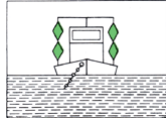
151. Was bedeuten im Fahrwasser nachstehende Zeichen?

- a. Festgefahrenes oder gesunkenes Fahrzeug. Vorbeifahrt an der Seite mit dem grün-weiß-grünen Tafelzeichen gestattet; rot-weiß-rote Seite gesperrt. Sog und Wellenschlag vermeiden.
- b. Schwimmendes Gerät bei der Arbeit. Vorbeifahrt an der Seite mit dem grün-weiß-grünen Tafelzeichen gestattet; rot-weiß-rote Seite gesperrt. Sog und Wellenschlag vermeiden.
- c. Festgefahrenes oder gesunkenes Fahrzeug. Vorbeifahrt an der Seite mit dem rot-weiß-roten Tafelzeichen gestattet; grün-weiß-grüne Seite gesperrt.
- d. **Schwimmendes Gerät bei der Arbeit. Vorbeifahrt an der Seite mit dem grün-weiß-grünem Tafelzeichen gestattet; rot-weiß-rote Seite gesperrt.**



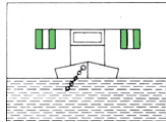
152. Was bedeuten diese Lichter?

- a. **Schwimmendes Gerät bei der Arbeit. Vorbeifahrt an jeder Seite gestattet.**
- b. Schwimmendes Gerät bei der Arbeit. Vorbeifahrt nicht gestattet.
- c. Festgefahrenes oder gesunkenes Fahrzeug. Vorbeifahrt an der Steuerbordseite gestattet.
- d. Festgefahrenes oder gesunkenes Fahrzeug. Vorbeifahrt nicht gestattet.



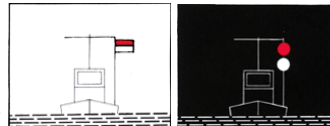
153. Was bedeuten diese Sichtzeichen?

- a. Schwimmendes Gerät bei der Arbeit. Vorbeifahrt an jeder Seite gestattet.
- b. Schwimmendes Gerät bei der Arbeit. Vorbeifahrt nicht gestattet.
- c. Festgefahrenes oder gesunkenes Fahrzeug. Vorbeifahrt an der Steuerbordseite gestattet.
- d. Festgefahrenes oder gesunkenes Fahrzeug. Vorbeifahrt nicht gestattet.



154. Was bedeuten diese Sichtzeichen?

- a. Festgefahrenes oder gesunkenes Fahrzeug. Vorbeifahrt an der Steuerbordseite gestattet. Sog und Wellenschlag vermeiden.
- b. Festgefahrenes oder gesunkenes Fahrzeug. Vorbeifahrt nicht gestattet.
- c. Schwimmendes Gerät bei der Arbeit. Vorbeifahrt an jeder Seite gestattet.
- d. Schwimmendes Gerät bei der Arbeit. Vorbeifahrt nicht gestattet.



155. Was bedeutet diese Tag- und Nachtbezeichnung?

- a. Ein festgefahrenes oder gesunkenes Fahrzeug. Vorbeifahrt nicht gestattet.
- b. Ein festgefahrenes oder gesunkenes Fahrzeug. Vorbeifahrt an jeder Seite mit unverminderter Geschwindigkeit gestattet.
- c. Schutzbedürftiges Fahrzeug, Vorbeifahrt in möglichst weitem Abstand, Geschwindigkeit vermindern, Sog und Wellenschlag vermeiden.
- d. Schwimmende Anlage / Schwimmkörper. Vorbeifahrt in möglichst weitem Abstand, Geschwindigkeit vermindern, Sog und Wellenschlag vermeiden.



156. Was bedeutet dieses Tafelzeichen?

- a. Gesperrte Wasserfläche, jedoch für Kleinfahrzeuge ohne laufende Antriebsmaschine befahrbar.
- b. Gesperrte Wasserfläche, jedoch für Kleinfahrzeuge ohne Antriebsmaschine befahrbar.
- c. Gesperrte Wasserfläche, für Kleinfahrzeuge nicht befahrbar.
- d. Gesperrte Wasserfläche, Verbot der Durchfahrt und Sperrung der Schifffahrt.



157. Was bedeutet dieses Tafelzeichen?

- a. Fahrverbot für Kleinfahrzeuge mit Maschinenantrieb.
- b. Fahrverbot für Fahrzeuge ohne Antriebsmaschine.
- c. Fahrverbot für Kleinfahrzeuge ohne laufende Antriebsmaschine.
- d. Fahrverbot für Fahrzeuge mit Maschinenantrieb.

158. Wie ist eine geschützte Badezone gekennzeichnet?

- a. Durch rot-grün gestreifte Tonnen.
- b. Durch gelbe Tonnen.
- c. Durch grüne Tonnen.
- d. Durch rote Tonnen.

159. Was bedeutet ein langer Ton?

- a. Maschine geht rückwärts.
- b. Achtung!
- c. Fahrzeug ist manövrierunfähig.
- d. Überholen nicht möglich.

160. Was bedeuten vier kurze Töne?

- a. Maschine geht rückwärts.
- b. Achtung!
- c. Fahrzeug ist manövrierunfähig.
- d. Überholen nicht möglich.

161. Was bedeuten fünf kurze Töne?

- a. Maschine geht rückwärts.
- b. Fahrzeug ist manövrierunfähig.
- c. Achtung!
- d. **Überholen nicht möglich.**

162. Was bedeutet dieses Schallsignal? — ●

- a. Wenden über Backbord.
- b. **Wenden über Steuerbord.**
- c. Kursänderung über Steuerbord.
- d. Kursänderung nach Backbord.

163. Was bedeutet dieses Schallsignal? — ● ●

- a. **Wenden über Backbord.**
- b. Wenden über Steuerbord.
- c. Kursänderung nach Backbord.
- d. Kursänderung nach Steuerbord.

164. Was bedeutet dieses Schallsignal? — — ●

- a. Hafen oder Nebenwasserstraße; Ein- oder Ausfahrt mit Kursänderung nach Steuerbord.
- b. Hafen oder Nebenwasserstraße; Ein- oder Ausfahrt mit Kursänderung nach Backbord.
- c. Überholen an der Backbordseite des Vorfahrenden.
- d. **Überholen an der Steuerbordseite des Vorfahrenden.**

165. Was bedeutet dieses Schallsignal? — — ● ●

- a. Hafen oder Nebenwasserstraße; Ein- oder Ausfahrt mit Kursänderung nach Steuerbord.
- b. Hafen oder Nebenwasserstraße; Ein- oder Ausfahrt mit Kursänderung nach Backbord.
- c. **Überholen an der Backbordseite des Vorfahrenden.**
- d. Überholen an der Steuerbordseite des Vorfahrenden.

166. Was bedeutet dieses Schallsignal? — — — ●

- a. **Hafen oder Nebenwasserstraße; Ein- oder Ausfahrt mit Kursänderung nach Steuerbord.**
- b. Hafen oder Nebenwasserstraße; Ein- oder Ausfahrt mit Kursänderung nach Backbord.
- c. Überholen an der Backbordseite des Vorfahrenden.
- d. Überholen an der Steuerbordseite des Vorfahrenden.

167. Was bedeutet dieses Schallsignal? — — — ● ●

- a. Hafen oder Nebenwasserstraße; Ein- oder Ausfahrt mit Kursänderung nach Steuerbord.
- b. **Hafen oder Nebenwasserstraße; Ein- oder Ausfahrt mit Kursänderung nach Backbord.**
- c. Überholen an der Backbordseite des Vorfahrenden.
- d. Überholen an der Steuerbordseite des Vorfahrenden.

168. Was ist eine Folge sehr kurzer Töne?

- a. Eine Folge von mindestens 2 Tönen von je etwa einer viertel Sekunde Dauer und mit je einer viertel Sekunde Pause.
- b. Eine Folge von mindestens 4 Tönen von je etwa einer viertel Sekunde Dauer und mit je einer viertel Sekunde Pause.
- c. **Eine Folge von mindestens 6 Tönen, von je etwa einer viertel Sekunde Dauer und mit je einer viertel Sekunde Pause.**
- d. Eine Folge von mindestens 8 Tönen von je etwa einer viertel Sekunde Dauer und mit je einer viertel Sekunde Pause.

169. Was bedeutet eine Folge sehr kurzer Töne?

- a. Überholen nicht möglich.
- b. Fahrzeug ist manövrierunfähig.
- c. **Gefahr eines Zusammenstoßes.**
- d. Achtung!

170. Welche Schallsignale bzw. Zeichen sind zu geben, wenn das Boot manövrierunfähig geworden ist?

- a. Ein langer, vier kurze Töne. Bei Tag eine rote Flagge, bei Nacht ein rotes Licht setzen.
- b. **Vier kurze Töne. Bei Tag eine rote Flagge, bei Nacht ein rotes Licht im unteren Halbkreis schwenken.**
- c. Fünf kurze Töne. Bei Tag eine rote Flagge, bei Nacht ein rotes Licht im oberen Halbkreis schwenken.
- d. Eine Gruppe von kurzen und langen Tönen im Intervall geben. Bei Nacht ein rotes Blinklicht einschalten.

171. Ein Fahrzeug zeigt an der Steuerbordseite seines Ruderhauses eine blaue Tafel mit weißem Funkellicht. Welche Bedeutung hat dieses Zeichen?

- a. Fahrzeuge begegnen sich an Steuerbord. Dieses Zeichen gilt nur für Kleinfahrzeuge.
- b. Fahrzeuge begegnen sich an Steuerbord. Dieses Zeichen braucht gar nicht beachtet zu werden.
- c. Fahrzeuge begegnen sich an Steuerbord. Dieses Zeichen gilt auch für alle Kleinfahrzeuge.
- d. **Fahrzeuge begegnen sich an Steuerbord. Dieses Zeichen gilt nicht für Kleinfahrzeuge, verpflichtet aber zu erhöhter Aufmerksamkeit.**

172. Ein Sportfahrzeug fährt hinter einem Fahrzeug, das nicht Kleinfahrzeug ist, in den Schleusenvorhafen ein. Aus der Schleusenkammer kommt ein Fahrzeug, das an Steuerbord eine blaue Tafel mit einem weißen Funkellicht zeigt. Was bedeutet dieses Zeichen?

- a. **Das aus- und die einfahrenden Fahrzeuge passieren sich an der Steuerbordseite, das Kleinfahrzeug ist nur zu erhöhter Aufmerksamkeit verpflichtet.**
- b. Das aus- und die einfahrenden Fahrzeuge passieren sich an der Backbordseite, das Kleinfahrzeug ist nur zu erhöhter Aufmerksamkeit verpflichtet.
- c. Das aus- und die einfahrenden Fahrzeuge passieren sich an der Steuerbordseite, das Kleinfahrzeug ist wartepflichtig.
- d. Das aus- und die einfahrenden Fahrzeuge passieren sich an der Backbordseite, das Kleinfahrzeug hat Vorrang.

173. Wo kann man von bestehenden Höchstgeschwindigkeiten auf den Binnenschiffahrtsstraßen Kenntnis erhalten?

- a. In der Binnenschiffsuntersuchungsordnung, bei der Wasser- und Schifffahrtsverwaltung und der Wasserschutzpolizei.
- b. **In der Binnenschiffahrtsstraßen-Ordnung, bei der Wasser- und Schifffahrtsverwaltung und der Wasserschutzpolizei.**
- c. In der Sportbootführerscheinverordnung-Binnen, bei der Wasser- und Schifffahrtsverwaltung und der Wasserschutzpolizei.
- d. In der Binnenschifferpatentverordnung, bei der Wasser- und Schifffahrtsverwaltung und der Wasserschutzpolizei.

174. Wie ist ein Überholmanöver durchzuführen?

- a. Zügig überholen. Gegebenenfalls das Fahrzeug stark beschleunigen, um schnell passieren zu können.
- b. Zügig überholen; überholen nur auf der Steuerbordseite erlaubt, ausreichend Abstand halten.
- c. **Zügig überholen. Beteiligte Fahrzeuge nicht behindern. Verkehrslage und eventuelle Schallzeichen beachten. Ausreichend Abstand halten.**
- d. Zügig überholen. Dicht am Ufer entlang fahren, eventuelle Schallzeichen müssen von Kleinfahrzeugen beachtet werden.

175. Wann besteht die Gefahr eines Zusammenstoßes?

- a. **Wenn sich zwei Fahrzeuge bei gleich bleibender Peilung einander nähern.**
- b. Wenn sich zwei Fahrzeuge einander nähern und sich der Kurs der Fahrzeuge nicht ändert.
- c. Wenn sich zwei Fahrzeuge einander nähern und sich der Kurs eines Fahrzeuges ändert.
- d. Wenn sich zwei Fahrzeuge einander nähern und beide Fahrzeuge ihren Kurs nach steuerbord ändern.

176. Wie müssen Ausweichmanöver durchgeführt werden?

- a. Rechtzeitig, klar erkennbar und nach Steuerbord.
- b. Rechtzeitig, klar erkennbar und nach Backbord.
- c. Rechtzeitig, klar erkennbar und vorsichtig.
- d. **Rechtzeitig, klar erkennbar und entschlossen.**

177. Ein Kleinfahrzeug und ein Fahrzeug über 20 m Länge nähern sich auf kreuzenden Kursen. Es besteht die Gefahr eines Zusammenstoßes. Wer ist ausweichpflichtig?

- a. Ausweichpflichtig ist das Fahrzeug über 20 m Länge.
- b. Ausweichpflichtig ist das Kleinfahrzeug.
- c. Ausweichpflichtig ist das Fahrzeug, welches das andere an seiner Steuerbordseite sieht.
- d. Ausweichpflichtig ist das Fahrzeug, welches das andere an seiner Backbordseite sieht.


178. Welche Fahrzeuge in Fahrt führen nachts nur ein weißes Rundumlicht?

- a. Kleinfahrzeuge mit Maschinenantrieb unter 15 m Länge.
- b. Kleinfahrzeuge mit Maschinenantrieb und geschleppte Fahrzeuge.
- c. Fahrzeuge die geschoben werden.
- d. Längsseits gekuppelte Kleinfahrzeuge.

179. Wie muss sich ein kreuzendes Kleinfahrzeug unter Segel am Wind in der Nähe eines Ufers gegenüber einem anderen Kleinfahrzeug verhalten?

- a. Es darf ein anderes Kleinfahrzeug, das sein backbordseitiges Ufer verlässt, zum Ausweichen zwingen.
- b. Es darf ein anderes Kleinfahrzeug, das sein steuerbordseitiges Ufer anhält, zum Ausweichen zwingen.
- c. Es darf ein anderes Kleinfahrzeug, das sein steuerbordseitiges Ufer anhält, nicht zum Ausweichen zwingen.
- d. Es darf ein anderes Kleinfahrzeug, das sein steuerbordseitiges Ufer verlässt, nicht zum Ausweichen zwingen.

180. Wer ist ausweichpflichtig bzw. wer ist nicht ausweichpflichtig?



- a. Das Fahrzeug unter Segel ist ausweichpflichtig.
- b. Das Fahrzeug unter Segel ist nicht ausweichpflichtig.
- c. Das Fahrzeug unter Maschinenantrieb ist ausweichpflichtig.
- d. Beide Fahrzeuge sind ausweichpflichtig.

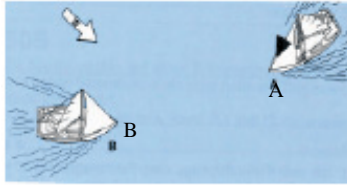
181. Was hat der Schiffsführer eines Kleinfahrzeugs beim Begegnen mit Fahrzeugen, die nicht Kleinfahrzeuge sind, zu beachten?

- a. Kleinfahrzeuge sind gegenüber anderen Fahrzeugen, die nicht Kleinfahrzeuge sind, nicht ausweichpflichtig.
- b. Kleinfahrzeuge sind gegenüber Fahrzeugen, die nicht Kleinfahrzeuge sind, bei der Begegnung gleichgestellt.
- c. Kleinfahrzeuge sind gegenüber Fahrzeugen, die nicht Kleinfahrzeuge sind, ausweichpflichtig. Sie müssen für deren Kurs und zum Manövrieren notwendigen Raum lassen.
- d. Kleinfahrzeuge sind gegenüber Fahrzeugen, die nicht Kleinfahrzeuge sind, ausweichpflichtig. Sie brauchen aber keinen besonderen Raum zum Manövrieren frei zu geben.

182. Von Backbord kommend kreuzt ein Fahrzeug unter Segel mit einem schwarzen Kegel, Spitze nach unten, den Kurs eines Fahrzeuges mit Maschinenantrieb. Wer ist ausweichpflichtig?

- a. Beide Fahrzeuge sind ausweichpflichtig.
- b. Das Fahrzeug unter Segel mit einem schwarzen Kegel ist ausweichpflichtig.
- c. Das Fahrzeug ohne Segel ist ausweichpflichtig.
- d. Das Fahrzeug unter Segel mit einem schwarzen Kegel ist nicht ausweichpflichtig.

183. Zwei Kleinfahrzeuge unter Segel A und B liegen auf Kollisionskurs; A führt einen schwarzen Kegel. Wer ist ausweichpflichtig?

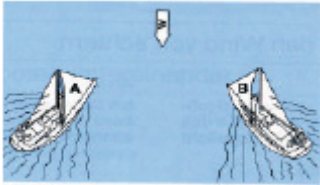


- a. Ausweichpflichtig ist das Fahrzeug, welches das Andere an seiner Backbordseite sieht.
- b. Ausweichpflichtig ist das Fahrzeug, welches den Wind von Backbord hat.
- c. **Fahrzeug A ist ausweichpflichtig.**
- d. Fahrzeug B ist ausweichpflichtig.

184. Ein Fahrzeug unter Segel kreuzt eine Binnenschiffahrtsstraße. In der Fahrwassermitte kommt ihm ein Kleinfahrzeug mit Maschinenantrieb zu Berg entgegen. Wer ist ausweichpflichtig?

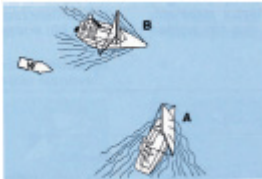
- a. Fahrzeug unter Segel.
- b. Beide sind ausweichpflichtig.
- c. **Fahrzeug mit Maschinenantrieb.**
- d. Fahrzeug in der Talfahrt.

185. Zwei Kleinfahrzeuge A und B unter Segel liegen auf Kollisionskurs (Skizze). Wer ist ausweichpflichtig?



- a. **„A“ ist ausweichpflichtig. Segelfahrzeuge mit Wind von Backbord müssen Segelfahrzeugen mit Wind von Steuerbord ausweichen.**
- b. „B“ ist ausweichpflichtig. Segelfahrzeuge mit Wind von Backbord müssen Segelfahrzeugen mit Wind von Steuerbord ausweichen.
- c. „A“ ist ausweichpflichtig. Segelfahrzeuge mit Wind von Steuerbord müssen Segelfahrzeugen mit Wind von Backbord ausweichen.
- d. „B“ ist ausweichpflichtig. Segelfahrzeuge mit Wind von Steuerbord müssen Segelfahrzeugen mit Wind von Backbord ausweichen.

186. Zwei Kleinfahrzeuge unter Segel liegen auf Kollisionskurs. Wer ist ausweichpflichtig?

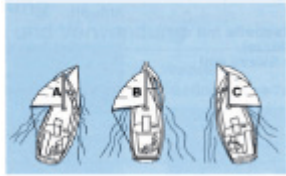


- a. „A“ ist ausweichpflichtig. Das luvseitige Boot muss dem leeseitigen ausweichen.
- b. „A“ ist ausweichpflichtig. Das leeseitige Boot muss dem luvseitigen ausweichen.
- c. **„B“ ist ausweichpflichtig. Das luvseitige Boot muss dem leeseitigen ausweichen.**
- d. „B“ ist ausweichpflichtig. Das leeseitige Boot muss dem luvseitigen ausweichen.

187. Ein Kleinfahrzeug A segelt nachts auf Vorwindkurs stromab, Großsegel an Steuerbord. Backbord querab kommt ein grünes Seitenlicht eines Bootes B immer näher, das kein Topplicht führt. Wer ist ausweichpflichtig?

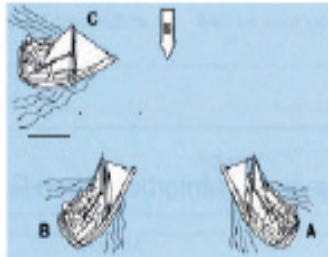
- a. Boot B ist ausweichpflichtig, weil es sich bei Fahrzeug A um ein Kleinfahrzeug unter Segel handelt, das den Wind von Backbord hat.
- b. Boot B ist ausweichpflichtig, weil es sich um ein Kleinfahrzeug handelt und Kleinfahrzeuge anderen Kleinfahrzeugen unter Segel ausweichen müssen.
- c. **Das Kleinfahrzeug A ist ausweichpflichtig. Ein Boot mit Wind von Backbord muss ausweichen, wenn es nicht klar ausmachen kann, ob das luvseitige Boot den Wind von Steuerbord hat.**
- d. Das Kleinfahrzeug A ist ausweichpflichtig. Ein Boot mit Wind von Steuerbord muss ausweichen, wenn es nicht klar ausmachen kann, ob das luvseitige Boot den Wind von Backbord hat.

188. Der seitliche Abstand zwischen den Booten A, B und C verringert sich ständig. Welches Boot kann seinen Kurs beibehalten?



- a. Boot A, weil luvseitig.
- b. Boot A, weil leeseitig.
- c. Boot B, weil leeseitig.
- d. Boot C, weil leeseitig.

189. Wer ist wem gegenüber kurshaltepflichtig?



- a. „A“ gegenüber B und C, C gegenüber B.
- b. „A“ gegenüber B und C, B gegenüber C.
- c. „B“ gegenüber C und A, A gegenüber C.
- d. „C“ gegenüber A und B, B gegenüber A.


190. Was ist vorrangig zu beachten, wenn eine Jolle gekentert ist und sie nicht wieder aufgerichtet werden kann?

- a. Vollständigkeit der Crew überprüfen, gegebenenfalls Hilfe leisten. Am Boot festhalten oder gegebenenfalls aufs Boot legen, Hilfe abwarten.
- b. Sofort vorgeschriebene Notsignale geben, mit allen Mitteln versuchen, das Fahrzeug aus dem Fahrwasser zu bringen.
- c. Auf das gekenterte Boot steigen und sich ruhig verhalten, um Wärmeverlust zu minimieren. Sollte das nicht möglich sein, ans benachbarte Ufer schwimmen und Hilfe holen.
- d. Rettungswesten anlegen und mit geeigneten Mitteln Hilfe herbeiholen. Gegebenenfalls Segel bergen.

191. Ein Segelboot gerät in das Feld einer Segelregatta, ohne selbst Teilnehmer zu sein. Welche Ausweichregeln sind zu beachten?

- a. Die der Wettsegelbestimmungen.
- b. Gegenüber Regattateilnehmern, die der Wettfahrtregeln, gegenüber anderen Fahrzeugen die der Binnenschiffahrtsstraßen-Ordnung.
- c. Die der Binnenschiffahrtsstraßen-Ordnung.
- d. Fahrzeuge, die an einer Regatta teilnehmen, müssen unbeteiligten Fahrzeugen ausweichen.

192. Ein Kleinfahrzeug unter Segel kreuzt nachts das Fahrwasser. An Backbord tauchen die nachstehenden Lichter eines Fahrzeugs auf, das in spitzem Winkel den Kurs des Kleinfahrzeugs unter Segel kreuzen will. Was bedeuten diese Lichter?



- a. Frei fahrende Fähre.
- b. Kleinfahrzeug mit Maschinenantrieb.
- c. Schubverband von vorne.
- d. Geschlepptes Kleinfahrzeug.

193. Ein Kleinfahrzeug unter Segel kreuzt nachts das Fahrwasser. An Backbord tauchen die nachstehenden Lichter eines Fahrzeugs auf, das in spitzem Winkel den Kurs des Kleinfahrzeugs unter Segel kreuzen will. Wer ist ausweichpflichtig?



- a. Kleinfahrzeug unter Segel.
- b. Kleinfahrzeug, welches das Andere auf der Backbordseite hat.
- c. **Kleinfahrzeug mit Maschinenantrieb.**
- d. Beide sind ausweichpflichtig.

194. Ein Kleinfahrzeug unter Segel und mit Maschinenantrieb kreuzt nachts stromauf. Ein Fahrzeug kommt entgegen, das nur ein weißes Licht führt. Was bedeutet dieses Licht?

- a. **Kleinfahrzeug ohne Maschinenantrieb.**
- b. Kleinfahrzeug mit Maschinenantrieb.
- c. Kleinfahrzeug unter Segel.
- d. Kleinfahrzeug unter Segel mit Maschinenantrieb.

195. Ein Kleinfahrzeug unter Segel kreuzt nachts im Fahrwasser. Von achtern kommt ein Fahrzeug, das eine Zweifarbenlaterne und ein Topplicht führt. Was bedeuten diese Lichter?

- a. **Kleinfahrzeug mit Maschinenantrieb.**
- b. Kleinfahrzeug ohne Maschinenantrieb.
- c. Kleinfahrzeug unter Segel.
- d. Kleinfahrzeug unter Segel mit Maschinenantrieb.

196. Was bedeuten nachts auf einer Binnenschiffahrtsstraße die nachstehenden Lichter?



- a. Keine Durchfahrt für Kleinfahrzeuge.
- b. Sperrung der Schifffahrt.
- c. **Sog und Wellenschlag vermeiden.**
- d. Durchfahrt für Kleinfahrzeuge.

197. Wo ist die Geschwindigkeit zu vermindern, um Sog und Wellenschlag zu vermeiden?

- a. Vor Hafeneinmündungen, an Lade-, Lösch- und Liegeplätzen, in der Nähe frei fahrender Fähren, auf gekennzeichneten Strecken, in der Nähe schwimmender Geräte bei der Arbeit.
- b. **Vor Hafeneinmündungen, an Lade-, Lösch- und Liegeplätzen, in der Nähe nicht frei fahrender Fähren, auf gekennzeichneten Strecken, in der Nähe schwimmender Geräte bei der Arbeit.**
- c. Vor Hafeneinmündungen, an Lade-, Lösch- und Liegeplätzen, in der Nähe nicht frei fahrender Fähren, auf gekennzeichneten Strecken, in der Nähe schwimmender Schifffahrtszeichen.
- d. Vor Einmündungen, an Lade-, Lösch- und Liegeplätzen, in der Nähe nicht frei fahrender Fähren, auf gekennzeichneten Strecken, in der Nähe schwimmender Geräte bei der Arbeit.

198. Was bedeutet dieses Tafelzeichen?



- Empfohlene Fahrtrichtung.
- Fahrtrichtung nach links verboten.
- Vorgeschriebene Fahrtrichtung nur für Kleinfahrzeuge.
- Vorgeschriebene Fahrtrichtung.**

199. Welche Bedeutung hat das nachstehende Tafelzeichen, wenn das rote Licht leuchtet?



- a. Achtung Doppelschleuse, linke Kammer gesperrt.
- b. Achtung Ausfahrt aus Hafen oder Nebenfahrwasser.
- c. **Verbot der Einfahrt in einen Hafen oder eine Nebenwasserstraße.**
- d. Verbot des Überholens auf dem Streckenabschnitt.



200. Was bedeutet dieses Tafelzeichen?

- a. 10 km/h für größere Fahrzeuge.
- b. 10 km/h Höchstgeschwindigkeit gegenüber dem Ufer.
- c. 10 km/h Höchstgeschwindigkeit gegenüber der Strömung.
- d. 10 km/h Höchstgeschwindigkeit für Kleinfahrzeuge.



201. Was bedeutet dieses Tafelzeichen?

- a. Gebot: Achtungssignal geben.
- b. Gebot: Vor dem Schild anhalten.
- c. Gebot: Besondere Vorsicht walten lassen.
- d. Gebot: Geradeaus zu fahren.



202. Was bedeutet dieses Tafelzeichen?

- a. Wendeverbot.
- b. Wendeverbot in der Mitte des Fahrwassers.
- c. Verbotene Fahrtrichtung rechts oder links.
- d. Verbote in beiden angezeigten Richtungen zu fahren.



203. Was bedeutet dieses Tafelzeichen?

- a. Vorgeschriebener Wendeplatz. Stilliegen für alle Fahrzeuge verboten.
- b. Vorgeschriebener Wendeplatz. Stilliegen von Kleinfahrzeugen erlaubt.
- c. Empfohlener Wendeplatz. Stilliegen für alle Fahrzeuge verboten.
- d. Empfohlener Wendeplatz. Stilliegen von Kleinfahrzeugen erlaubt.



204. Was bedeutet dieses Tafelzeichen?

- a. Wehr.
- b. Hubbrücke.
- c. Schleuse.
- d. Sicherungstor.

205. Welche Sichtbeeinträchtigungen führen zu unsichtigem Wetter?

- a. Dunkelheit, Nebel, Schneefall, starker Regen.
- b. Nebel, Schneefall, starker Regen.
- c. Nacht, Schneefall, starker Regen.
- d. Dämmerung, Nebel, Schneefall, starker Regen.

206. Wie muss ein Fahrzeug ausgerüstet sein, um bei unsichtigem Wetter zu fahren?

- a. Mit einer für die Binnenschifffahrt zugelassenen funktionsfähigen Radaranlage und einer Sprechfunkanlage ohne ATIS.
- b. Mit einer für die Binnenschifffahrt zugelassenen funktionsfähigen Radaranlage und einer Sprechfunkanlage für den Seefunkdienst.
- c. Mit einer Radaranlage ohne Wendeanzeiger und einer Sprechfunkanlage für den Binnenschifffahrtfunk.
- d. Mit einer für die Binnenschifffahrt zugelassenen funktionsfähigen Radaranlage und einer Sprechfunkanlage für den Binnenschifffahrtfunk.

207. Was ist zu beachten, wenn während der Fahrt unsichtiges Wetter eintritt?

- a. Auf allen Wasserstraßen ist ohne Radar und Sprechfunk die Fahrt unverzüglich einzustellen.
- b. Auf allen Wasserstraßen ist ohne Radar und ECDIS die Fahrt unverzüglich einzustellen.
- c. Auf bestimmten Wasserstraßen ist ohne Radar und Sprechfunk die Fahrt unverzüglich einzustellen.
- d. Auf bestimmten Wasserstraßen ist ohne Radar und AIS die Fahrt unverzüglich einzustellen.

208. Welchen Vorteil bietet ein Radarreflektor auf einem Sportboot?

- a. **Bessere Erkennbarkeit des Sportbootes auf Radarbildschirmen.**
- b. Bessere Erkennbarkeit des Sportbootes bei Nacht.
- c. Bessere Erkennbarkeit des Sportbootes bei Taglicht.
- d. Bessere Erkennbarkeit des Sportbootes bei unsichtigem Wetter.

209. Welche technische Einrichtung gegen einen Stromschlag muss in der Landstromversorgung unbedingt installiert sein?

- a. Ein Überspannungsschutz.
- b. Ein Schutzkleinspannungsschalter.
- c. **Ein Fehlerstromschutzschalter.**
- d. Ein geringer Ladungsstrom ist ungefährlich.

210. Welches Schallsignal ist zu geben, wenn in einer Notsituation Hilfe gebraucht wird?

- a. Wiederholte kurze Töne geben, keine Glockenschläge.
- b. **Wiederholte lange Töne geben oder Gruppen von Glockenschlägen.**
- c. Einen langen Ton geben, vereinzelt Glockenschläge.
- d. Drei kurze Töne geben, keine Glockenschläge.

211. Welche Bedeutung hat am Tag das Kreisen einer roten Flagge auf einem Wasserfahrzeug?

- a. **Ein in Not befindliches Fahrzeug, das durch Sichtzeichen Hilfe herbeirufen will.**
- b. Ein manövrierbehindertes Fahrzeug, das durch Sichtzeichen Hilfe herbeirufen will.
- c. Keine Bedeutung für den durchgehenden Schiffsverkehr.
- d. Schützenswertes Fahrzeug, Vermeidung von Sog und Wellenschlag.

212. Welche Notsignale kann ein Segelsurfer auf Binnenschiffahrtsstraßen geben?

- a. Wiederholt lange Gruppen von Glockenschlägen.
- b. Kreisförmiges Schwenken einer grünen Flagge, die mit anderen Zeichen nicht verwechselt werden kann.
- c. Kreisförmiges Schwenken der Arme ist zu vermeiden, das Surfsegel ist möglichst senkrecht zu stellen.
- d. **Kreisförmiges Schwenken der Arme oder eines Gegenstands.**

213. Was ist mit Abfällen jeglicher Art zu tun, die an Bord anfallen?

- a. An Bord sammeln und bei einer Liegestelle an Land stellen.
- b. An Bord sammeln und nur in geschlossenen Behältern über Bord werfen.
- c. **An Bord sammeln und an Land in den entsprechenden Abfallsammelbehältern umweltgerecht entsorgen.**
- d. An Bord sammeln. Die Abgabe ist an jeder Schleuse möglich.

214. Wem darf der Schiffsführer das Ruder eines motorisierten Sportbootes überlassen?

- a. Einer Person, die mindestens 14 Jahre alt, sowie körperlich und geistig geeignet ist.
- b. **Einer Person, die mindestens 16 Jahre alt, sowie körperlich und geistig geeignet ist.**
- c. Einer Person, die mindestens 18 Jahre alt, sowie körperlich und geistig geeignet ist.
- d. Einer Person jeden Alters, die körperlich und geistig geeignet ist.

215. Wie müssen Abfälle entsorgt werden?

- a. **Es dürfen keinerlei Abfälle ins Wasser gelangen, Fäkalien und Öle sind an Land zu entsorgen.**
- b. Nur Abfälle, die die Umwelt nicht gefährden, dürfen 300 m vom Ufer ins Wasser eingeleitet werden.
- c. Auf Seen dürfen keine Abfälle ins Wasser gelangen, auf Binnenschiffahrtsstraßen gibt es Sonderregelungen.
- d. Alle Schiffe müssen mit Fäkalientanks ausgerüstet sein und geeignete Behältnisse für die getrennte Aufnahme von Abfällen an Bord haben.

216. Was ist beim Neuanstrich des Unterwasserschiffs und bei der Entfernung des alten Anstrichs zu beachten?

- a. Es dürfen nur Unterwasseranstriche verwendet werden, deren Umweltverträglichkeit an der EU-Kennzeichnung erkenntlich ist.
- b. Es sind bei Arbeiten mit Unterwasseranstrichen die Richtlinien der Schiffsuntersuchungskommission zu beachten.
- c. **Der Arbeitsbereich ist großzügig abzudecken und der anfallende Abfall ist als Sondermüll zu behandeln und entsorgend zu entsorgen.**
- d. Unterwasserarbeiten dürfen nur von zertifizierten Fachbetrieben, nach den Bestimmungen des Umweltschutzes ausgeführt werden.

217. Was ist bei Sturmwarnung vom Schiffsführer eines Sportbootes unter Segel auf einem größeren Gewässer zu veranlassen?

- a. Rettungsweste bereit halten. Segel bergen, versuchen, einen Hafen oder eine geschützte Bucht anzulaufen.
- b. Rettungsweste anlegen. Segel setzen, versuchen die Gewässermittle anzulaufen.
- c. **Rettungsweste anlegen. Segel bergen, versuchen einen Hafen oder eine geschützte Bucht anzulaufen.**
- d. Rettungsweste anlegen. Alle Segel setzen, versuchen, einen Hafen oder eine geschützte Bucht anzulaufen.

218. Welche Fahrinnenseite hat ein Talfahrer an seiner Backbordseite?

- a. Die rechte Fahrinnenseite, gekennzeichnet durch rote Stumpftonnen oder Schwimmstangen.
- b. Die rechte Fahrinnenseite, gekennzeichnet durch grüne Spitztonnen oder Schwimmstangen.
- c. Die linke Fahrinnenseite, gekennzeichnet durch rote Stumpftonnen oder Schwimmstangen.
- d. **Die linke Fahrinnenseite, gekennzeichnet durch grüne Spitztonnen oder Schwimmstangen.**

219. Mit welcher Wetterentwicklung ist bei schnellem und stetig fallendem Luftdruck zu rechnen?

- a. Besseres Wetter, steigende Temperatur.
- b. Besseres Wetter, Sonne.
- c. **Schlechtes Wetter, Starkwind oder Sturm.**
- d. Schlechtes Wetter ist nicht zu erwarten.

220. Welches Wetter ist zu erwarten, wenn der Luftdruck langsam aber stetig steigt?

- a. Besseres Wetter, steigende Temperatur.
- b. **Besseres Wetter, Sonne.**
- c. Schlechtes Wetter, Starkwind oder Sturm.
- d. Schlechtes Wetter ist nicht zu erwarten.

221. Wo darf auf Binnenschiffahrtsstraßen Wasserski gelaufen werden?

- a. Überall, ohne die Schifffahrt zu gefährden.
- b. Außerhalb des Fahrwassers.
- c. Außerhalb der Fahrrinne.
- d. **Nur in durch Tafelzeichen freigegebenen Bereichen.**

222. Zu welcher Tageszeit und bei welchen Sichtweiten darf auf den erlaubten Gewässerabschnitten Wasserski gelaufen werden?

- a. Sonnenaufgang bis -untergang, Sicht 1 500 m und mehr.
- b. **Sonnenaufgang bis -untergang, Sicht 1 000 m und mehr.**
- c. Sonnenaufgang bis -untergang, Sicht 500 m und mehr.
- d. Sonnenaufgang bis -untergang, Sicht 300 m und mehr.

223. Wie muss sich der Wasserskiläufer bei der Vorbeifahrt an Fahrzeugen, Schwimmkörpern oder Badenden verhalten?

- a. Er muss uferseitig des Kielwassers fahren.
- b. **Er muss im Kielwasser des Zugbootes bleiben.**
- c. Er darf bis zu 10 m beiderseits außerhalb des Kielwassers fahren.
- d. Er darf bis zu 5 m beiderseits außerhalb des Kielwassers fahren.

224. Unter welchen Voraussetzungen darf außerhalb der ausgewiesenen Strecken/Wasserflächen Wassermotorrad gefahren werden?

- a. Wenn kein anderer Verkehrsteilnehmer behindert wird.
- b. Ab Hochwasserlinie I nur im Fahrwasser.
- c. **Bei Touren- und Wanderfahrten mit klarem Geradeauskurs.**
- d. Bei großen Sonderveranstaltungen außerhalb der Fahrrinne.

225. Wie hat sich der Führer eines Wassermotorrades außerhalb der ausgewiesenen Strecken/Wasserflächen zu verhalten?

- a. Im Abstand von 10 m zum Ufer fahren.
- b. Im Abstand von 10 m außerhalb des Tonnenstrichs fahren.
- c. Am Rande der Fahrrinne fahren.
- d. **Klaren Geradeauskurs fahren.**

226. Auf welchen Gewässern ist die Fahrerlaubnis für Sportboote unter Segeln erforderlich?

- a. Auf bestimmten Wasserstraßen in Berlin und Brandenburg.
- b. Auf allen Landesgewässern.
- c. Auf den Binnenschiffahrtsstraßen und allen Landesgewässern.
- d. Auf allen deutschen Wasserstraßen.

227. Weshalb muss sich der Schiffsführer vor dem Befahren fremder Gewässer über die dort geltenden Vorschriften informieren?

- a. Da diese auf Landesgewässern grundsätzlich inhaltlich abweichen.
- b. Da diese auf Bundesgewässern grundsätzlich inhaltlich abweichen.
- c. Um die jeweils geltenden Vorschriften einhalten zu können.
- d. Weil die jeweils geltenden Vorschriften wichtige Informationen über die Brückendurchfahrtshöhen enthalten.

228. Welcher Befähigungsnachweis berechtigt zum Führen eines Sportbootes mit einer Länge von 15 m bis 25 m auf dem Rhein?

- a. Der Sportbootführerschein-Binnen.
- b. Der Sportbootführerschein-See.
- c. Das Sportschifferzeugnis.
- d. Das Sportpatent.

229. Welcher Befähigungsnachweis berechtigt zum Führen eines Sportbootes mit einer Länge von 15 m bis 25 m auf den Binnenschiffahrtsstraßen?

- a. Der Sportbootführerschein-Binnen.
- b. Der Sportbootführerschein-See.
- c. Der Sportbootführerschein-Binnen oder das Sportpatent.
- d. Das Sportschifferzeugnis oder das Sportpatent.

230. Wo sind umfangreiche Hinweise auf die Binnenschiffahrtsstraßen und deren Grenzen zu finden?

- a. Im Teil I der Binnenschiffahrtsstraßen-Ordnung.
- b. Im Teil II der Binnenschiffahrtsstraßen-Ordnung.
- c. In der Binnenschiffsuntersuchungsordnung.
- d. In der Kleinfahrzeugkennzeichenverordnung.

231. Was ist bei der Ausübung des Wassersports auf Gewässern außerhalb der Bundeswasserstraßen (Landeswasserstraßen, kommunale und private Gewässer) zu beachten?

- a. Es ist gegebenenfalls die Genehmigung des Eigentümers einzuholen sowie die Binnenschiffahrtsstraßen-Ordnung zu beachten.
- b. Es ist gegebenenfalls die Genehmigung des Eigentümers einzuholen sowie die jeweilige Befahrensordnung zu beachten.
- c. Es ist immer die Genehmigung des Eigentümers einzuholen sowie die jeweilige Befahrensordnung zu beachten.
- d. Es ist immer die Genehmigung des Wasser- und Schifffahrtsamtes einzuholen sowie die jeweilige Befahrensordnung zu beachten.

232. Welche Kennzeichnungsarten für Sportboote gibt es?

- a. Nur amtliche Kennzeichen.
- b. Nur amtlich anerkannte Kennzeichen.
- c. Amtliche Kennzeichen und amtlich anerkannte Kennzeichen.
- d. Kennzeichen gemäß Konformitätserklärung (CE-Zeichen).

233. Welche Stelle ist für die Zuteilung eines amtlichen Kennzeichens für Sportboote zuständig?

- a. Der Deutsche Motoryachtverband.
- b. Der Deutsche Segler-Verband.
- c. Der Allgemeine Deutsche Automobilclub.
- d. Jedes Wasser- und Schifffahrtsamt.

234. Woraus bestehen die amtlich anerkannten Kennzeichen?

- a. Nummer des Internationalen Bootsscheins, gefolgt vom Kennbuchstaben für die ausstellende Organisation.
- b. Nummer des Binnenschiffsregisters, gefolgt vom Kennbuchstaben für die ausstellende Organisation.
- c. Nummer des Seeschiffsregisters, gefolgt vom Kennbuchstaben für die ausstellende Organisation.
- d. Die europäische Schiffsnummer, gefolgt vom Kennbuchstaben für die ausstellende Organisation.

235. Welche Stellen sind für die Zuteilung eines amtlich anerkannten Kennzeichens zuständig?

- a. Die Wasser- und Schifffahrtsämter.
- b. **Der Deutsche Motoryachtverband, der Deutsche Segler-Verband, der Allgemeine Deutsche Automobilclub.**
- c. Die Wasserschutzpolizei.
- d. Amtsgerichte, bei denen ein Schiffsregister geführt wird.

236. Wann muss ein Wassersportfahrzeug in das Binnenschiffsregister eingetragen werden?

- a. Ab 10 m Schiffslänge.
- b. Ab 15 m Schiffslänge.
- c. **Ab 10 cbm Wasserverdrängung.**
- d. Ab 15 cbm Wasserverdrängung.

237. Wie hat sich ein Schiffsführer bei Hochwasser zu verhalten?

- a. **Er muss die Geschwindigkeit anpassen und soweit wie möglich in der Fahrwassermitte bleiben, gegebenenfalls besondere Geschwindigkeitsbegrenzungen und Fahrtbeschränkungen beachten.**
- b. Er muss die Geschwindigkeit anpassen und soweit wie möglich in seiner Fahrtrichtung rechts fahren, gegebenenfalls besondere Geschwindigkeitsbegrenzungen und Fahrtbeschränkungen beachten.
- c. Er muss die Geschwindigkeit anpassen und soweit wie möglich in seiner Fahrtrichtung links fahren, gegebenenfalls besondere Geschwindigkeitsbegrenzungen und Fahrtbeschränkungen beachten.
- d. Er muss die Geschwindigkeit anpassen und soweit wie möglich in der Fahrwassermitte bleiben, besondere Geschwindigkeitsbegrenzungen und Fahrtbeschränkungen sind nicht zu beachten.

238. Wie hat sich ein Schiffsführer bei Erreichen der Hochwassermarke II zu verhalten?

- a. Er hat die Geschwindigkeit anzupassen.
- b. Er hat das Fahrverbot für Fahrzeuge ohne Sprechfunk zu beachten.
- c. Er hat das Verbot der Schifffahrt bei Nacht zu beachten.
- d. **Er hat die Fahrt unverzüglich einzustellen.**

239. Ein Fahrzeug fährt zu Tal. Voraus liegt eine rote Tonne. Auf welcher Fahrtrinnenseite befindet sich diese Tonne und an welcher Schiffsseite muss diese Tonne passiert werden?

- a. **Sie befindet sich auf der rechten Fahrtrinnenseite und muss an der Steuerbordseite des Schiffes passiert werden.**
- b. Sie befindet sich auf der rechten Fahrtrinnenseite und muss an der Backbordseite des Schiffes passiert werden.
- c. Sie befindet sich auf der linken Fahrtrinnenseite und muss an der Steuerbordseite des Schiffes passiert werden.
- d. Sie befindet sich auf der linken Fahrtrinnenseite und muss an Backbordseite des Schiffes passiert werden.

240. Ein Fahrzeug fährt zu Berg. Voraus liegt eine rote Tonne. Auf welcher Fahrtrinnenseite befindet sich diese Tonne und an welcher Schiffsseite muss diese Tonne passiert werden?

- a. Sie befindet sich auf der rechten Fahrtrinnenseite und muss an der Steuerbordseite des Schiffes passiert werden.
- b. **Sie befindet sich auf der rechten Fahrtrinnenseite und muss an der Backbordseite des Schiffes passiert werden.**
- c. Sie befindet sich auf der linken Fahrtrinnenseite und muss an der Steuerbordseite des Schiffes passiert werden.
- d. Sie befindet sich auf der linken Fahrtrinnenseite und muss an der Backbordseite des Schiffes passiert werden.

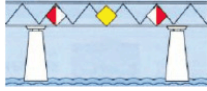
241. Ein Fahrzeug fährt in der Fahrrinne gegen den Strom. Voraus liegt eine grüne Tonne. Auf welcher Fahrtrinnenseite befindet sich diese Tonne und an welcher Schiffsseite muss diese Tonne passiert werden?

- a. Sie befindet sich auf der rechten Fahrtrinnenseite und muss an der Steuerbordseite des Schiffes passiert werden.
- b. Sie befindet sich auf der rechten Fahrtrinnenseite und muss an der Backbordseite des Schiffes passiert werden.
- c. Sie befindet sich auf der linken Fahrtrinnenseite und muss an der Backbordseite des Schiffes passiert werden.
- d. **Sie befindet sich auf der linken Fahrtrinnenseite und muss an der Steuerbordseite des Schiffes passiert werden.**

242. Welche Funktion haben gelbe Tonnen mit einem Radarreflektor vor Brückenpfeilern?

- a. Kenntlichmachung der Höhe der Brückenpfeiler.
- b. Kenntlichmachung einer gesperrten Brückendurchfahrt.
- c. **Kenntlichmachung der Brückenpfeiler auf dem Radarschirm.**
- d. Kenntlichmachung einer Untiefe im Brückenbereich.

243. Welche Bedeutung haben diese Tafeln an der nachstehenden gekennzeichneten Brücke?



- a. **Empfohlene Durchfahrt mit Gegenverkehr und seitlicher Begrenzung der erlaubten Brückendurchfahrt.**
- b. Empfohlene Durchfahrt ohne Gegenverkehr und seitlicher Begrenzung der erlaubten Brückendurchfahrt.
- c. Vorgeschriebene Durchfahrt mit Gegenverkehr und seitlicher Begrenzung der erlaubten Brückendurchfahrt.
- d. Empfohlene Durchfahrt mit Gegenverkehr ohne seitliche Begrenzung der erlaubten Brückendurchfahrt.

244. Was bedeutet dieses Tafelzeichen an einer Brückendurchfahrt?



- a. Schutzbedürftige Anlage.
- b. **Verbot der Durchfahrt und Sperrung der Schifffahrt.**
- c. Gesperrte Durchfahrt, jedoch für Kleinfahrzeuge mit Antriebsmaschine befahrbar.
- d. Gesperrte Durchfahrt, jedoch für Kleinfahrzeuge ohne Antriebsmaschine befahrbar.

255. Warum ist es bei der Schleusendurchfahrt verboten, Autoreifen als Fender zu benutzen?

- a. Autoreifen erzeugen eine zu hohe Reibung.
- b. Autoreifen erzeugen schwarze Farbspuren am Boot und an der Schleusenmauer.
- c. Autoreifen sind schwimmfähig und können in der Schleuse zu erheblichen Störungen führen.
- d. **Autoreifen sind nicht schwimmfähig und können in den Schleusen zu erheblichen Störungen führen.**

256. Welche Lichter führt ein Schubverband?

- a. Drei weiße Topplichter senkrecht untereinander angebracht, die Seitenlichter und drei weiße Hecklichter waagrecht nebeneinander.
- b. **Drei weiße Topplichter in einem Dreieck angebracht, die Seitenlichter und drei weiße Hecklichter waagrecht nebeneinander.**
- c. Drei weiße Topplichter in einem Dreieck angebracht, die Seitenlichter und zwei weiße Hecklichter waagrecht nebeneinander.
- d. Drei weiße Topplichter waagrecht nebeneinander, die Seitenlichter und drei weiße Hecklichter waagrecht nebeneinander.

257. Welches Fahrzeug führt am Bug einen roten Wimpel?

- a. Ein Fahrzeug, das explosive Stoffe geladen hat.
- b. Ein Fahrzeug, das brennbare Stoffe geladen hat.
- c. **Ein Fahrzeug mit Vorrang beim Schleusen.**
- d. Ein Fahrzeug mit Vorrang beim Be- und Entladen.

258. Wann gilt ein Sportboot auf den Binnenschiffahrtsstraßen als Kleinfahrzeug?

- a. Wenn das Fahrzeug eine Länge von 20 m hat.
- b. Wenn das Fahrzeug eine Länge von 25 m hat.
- c. Wenn das Fahrzeug eine Länge von mehr als 20 m hat.
- d. **Wenn das Fahrzeug eine Länge von weniger als 20 m hat.**

259. Welche Bedeutung hat die Bezeichnung eines Fahrzeuges mit einer rot-weißen Flagge und was ist zu beachten?

- a. Schutzbedürftiges Fahrzeug, Geschwindigkeit vermindern.
- b. Schutzbedürftiges Fahrzeug, Sog und Wellenschlag vermeiden.
- c. **Schutzbedürftiges Fahrzeug, Geschwindigkeit vermindern und Sog und Wellenschlag vermeiden.**
- d. Schutzbedürftiges Fahrzeug, Geschwindigkeit beibehalten und Sog und Wellenschlag vermeiden.

260. Welches optische Zeichen kann am Tage anstelle von vier kurzen Tönen gegeben werden?

- a. Eine rote Flagge im Kreis schwenken.
- b. Eine rote Flagge zeigen.
- c. Eine rote Flagge im oberen Halbkreis schwenken.
- d. **Eine rote Flagge im unteren Halbkreis schwenken.**

261. Welches optische Zeichen kann in der Nacht oder bei verminderter Sicht anstelle von vier kurzen Tönen gegeben werden?

- a. Ein rotes Licht im unteren Halbkreis schwenken.
- b. Ein rotes Licht im oberen Halbkreis schwenken.
- c. Ein rotes Licht im Kreis schwenken.
- d. Ein rotes Licht zeigen.

262. Welcher Befähigungsnachweis ist zur Teilnahme am Binnenschiffahrtfunk erforderlich?

- a. Das CB-Sprechfunkzeugnis für den Binnenschiffahrtfunk.
- b. Das Seefunkzeugnis für den Binnenschiffahrtfunk.
- c. Das UKW-Sprechfunkzeugnis für den Binnenschiffahrtfunk.
- d. Das SRC-Sprechfunkzeugnis für den Binnenschiffahrtfunk.

263. Was bedeutet Radarfahrt?

- a. Eine Fahrt mit Radar.
- b. Eine Fahrt bei Nacht mit Radar.
- c. Eine Fahrt am Tage mit Radar.
- d. Eine Fahrt bei unsichtigem Wetter mit Radar.